


Opgave 140 - overpeinzing

Mijn vier overpeinzingen

Vraag ACC 140-1 Overpeinzing

♠ A H
♥ 3 2
♦ A H B 2
♣ 6 5 4 3 2



♠ 3 2
♥ A H
♦ 6 5 4 3
♣ A H V B 10

Tegen jouw 7SA-contract start west met ♥V.
Hoe speel je de ruitenkleur?

- Ik speel vanuit de hand ruiten naar ♦B.
- Ik sla eerst ♦A, steek in een andere kleur over naar de hand en speel dan ruiten naar ♦B.
- Ik sla ♦AH en hoop dat ♦V valt.

Je mist vijf ruiten. De kans dat vijf kaarten 3-2 zitten is het grootst (68%).

En net als in een loterij heeft de bezitter van de meeste kaarten (drie), meer kans op ♦V dan de speler met twee ruiten.

De kans dat vijf kaarten 4-1 zitten, is 28%. De kans dat bij die verdeling precies ♦V sec zit, is daar 1/5 van. Een uiterst klein kansje dus.

Vraag ACC 140-2 Overpeinzing

♠ A H
♥ 3 2
♦ A H 3 2
♣ 6 5 4 3 2



♠ 3 2
♥ A H
♦ B 6 5 4
♣ A H V B 10

Tegen jouw 7SA-contract start west met ♥V.
Hoe speel je de ruitenkleur?

- Ik speel vanuit de hand ♦B voor en snijd op ♦V.
- Ik sla eerst ♦A, steek in een andere kleur over naar de hand en speel dan ♦B voor en snijd op ♦V.
- Ik sla ♦AH en hoop dat ♦V valt.

Je mist dezelfde vijf ruiten. Dus ook nu de grootste kans dat deze 3-2 zitten en dat ♦V deel uitmaakt van de 3-kaart.


Eerlijk gezegd gaat de volledige ACC 140-vraag vooral om dít spel, om deze ruitenverdeling.

Voor minder ervaren spelers, maar zeker ook voor een deel van spelers dat al decennia lang bridge speelt, is de juiste behandeling van deze acht ruiten vaak een (te) lastig vraagstuk.

Het dilemma is duidelijk: moet je wel of niet ♦B voorspelen en snijden op ♦V? Je komt alleen op het juiste antwoord als je kunt inschatten of je dan inderdaad alle (vier) ruitenslagen wint als west ♦V heeft.

Vraag ACC 140-3 Overpeinzing

♠ A H
♥ 3 2
♦ A H B 10 3 2
♣ 4 3 2



♠ 3 2
♥ A H 5 4
♦ 5 4
♣ A H V B 10

Tegen jouw 7SA-contract start west met ♥V.
Hoe speel je de ruitenkleur?

- Ik speel vanuit de hand ♦2 naar ♦10.
- Ik sla eerst ♦A, steek in een andere kleur over naar de hand en speel dan een kleine ruiten naar ♦10.
- Ik sla ♦AH en hoop dat ♦V valt.


Je mist nog steeds vijf ruiten met daarin ♦V.

Belangrijk verschil: zuid heeft maar twee ruitenkaarten. Dat betekent dat je vanuit zuid twee keer kunt snijden op ♦V. Behalve als je begint met het slaan van ♦A. Dan kun je vanuit zuid maar één keer ruiten voorspelen voor een snitje.

Nu jij weer 😊.

Vraag ACC 140-4 Overpeinzing

♠ A V
♥ H 3
♦ A H 6
♣ B 10 5 4 3 2



♠ H B 10 9
♥ A 2
♦ B 10 9 8 7
♣ A H

Ook tegen jouw laatste 7SA-contract kiest west voor de ♥V-uitkomst.
Hoe ga je om met de twee lage kleuren?

- Ik sla ♦AH en ♣AH.
- Ik sla ♦A, als ♦V niet valt, steek ik over naar ♣A, dan ♦B voor en snit op ♦V.
- Ik sla ♣AH en ♦A, als geen vrouw valt speel ik ♦B voor de snit op ♦V.
- Ik begin met het voorspelen van ♣B.

Een heel ander spel dan de drie voorgangers.

Je telde tien vaste slagen: vier in schoppen, en twee in alle andere kleuren.
Met drie extra slagen is je contract binnen. De ruiten én klaveren zijn mooi
genoeg voor een káns op dat noodzakelijke drietal.

En uiteraard probeer je zoveel mogelijk kansen te combineren...